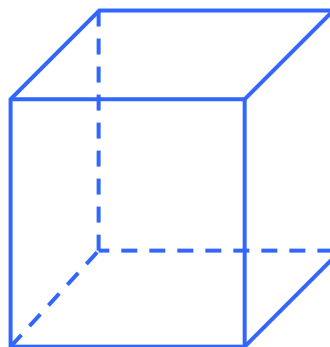
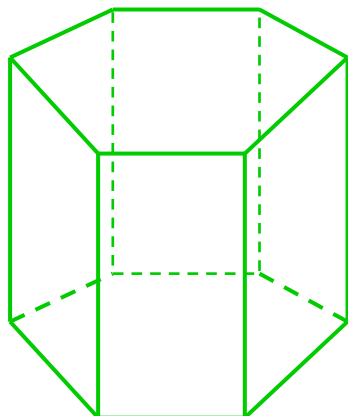
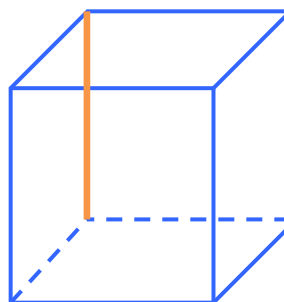
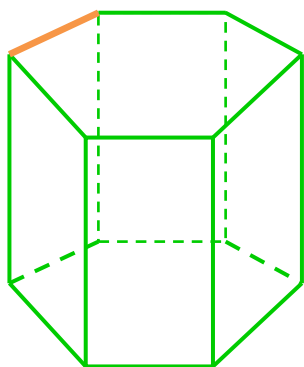


Część I - Odcinki

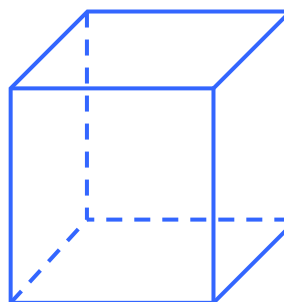
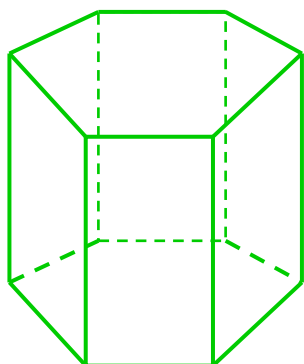
1. Zaznacz dwie dowolne krawędzie równoległe.



2. Narysuj krawędź równoległą do wyróżnionej krawędzi.



3. Zaznacz dwie krawędzie prostopadłe.



4. Zaznacz wszystkie krawędzie prostopadłe do wyróżnionej krawędzi.

